

ZBRANĚ A STŘELIVO

1 Pojmenuj lovecké zbraně na obrázcích a čísly 1 a 2.

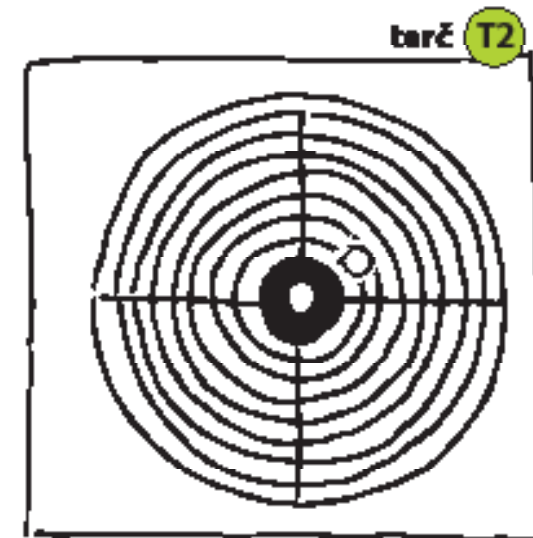
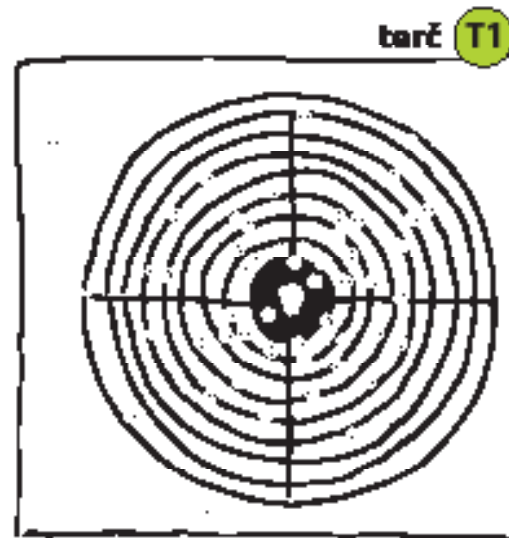
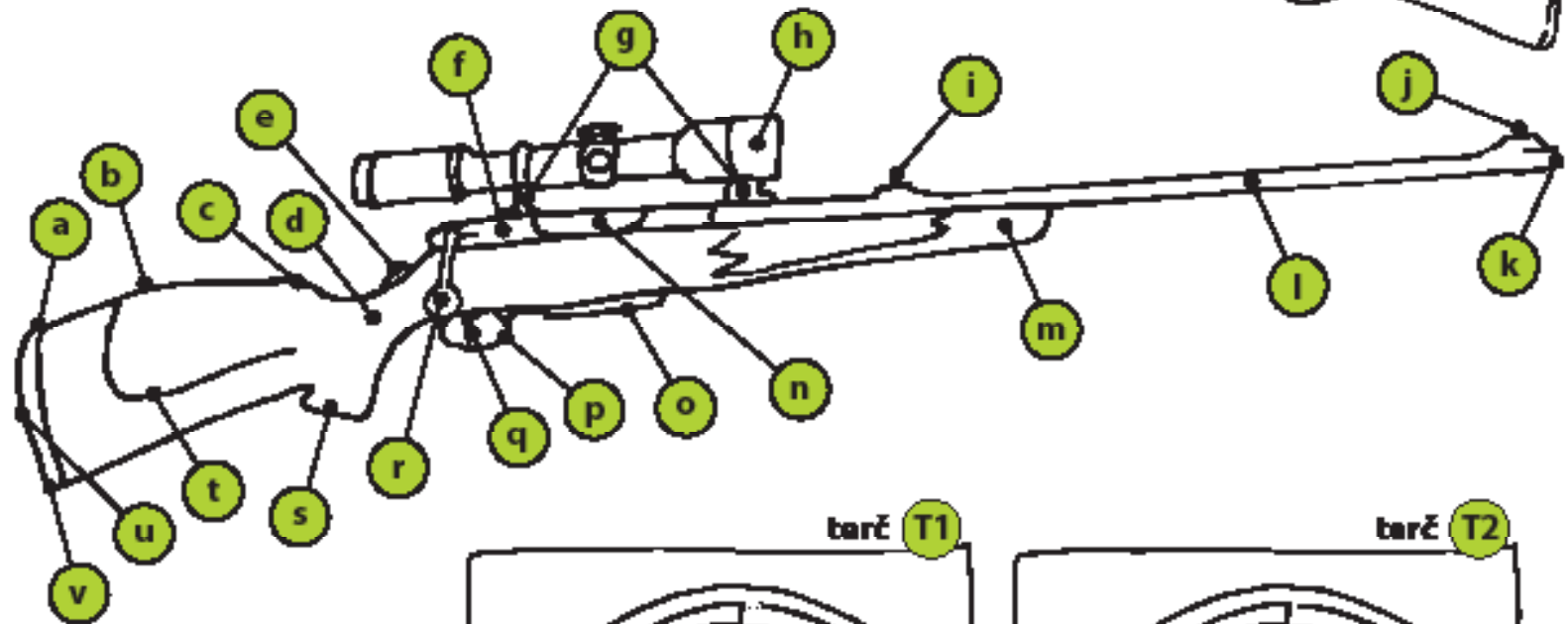
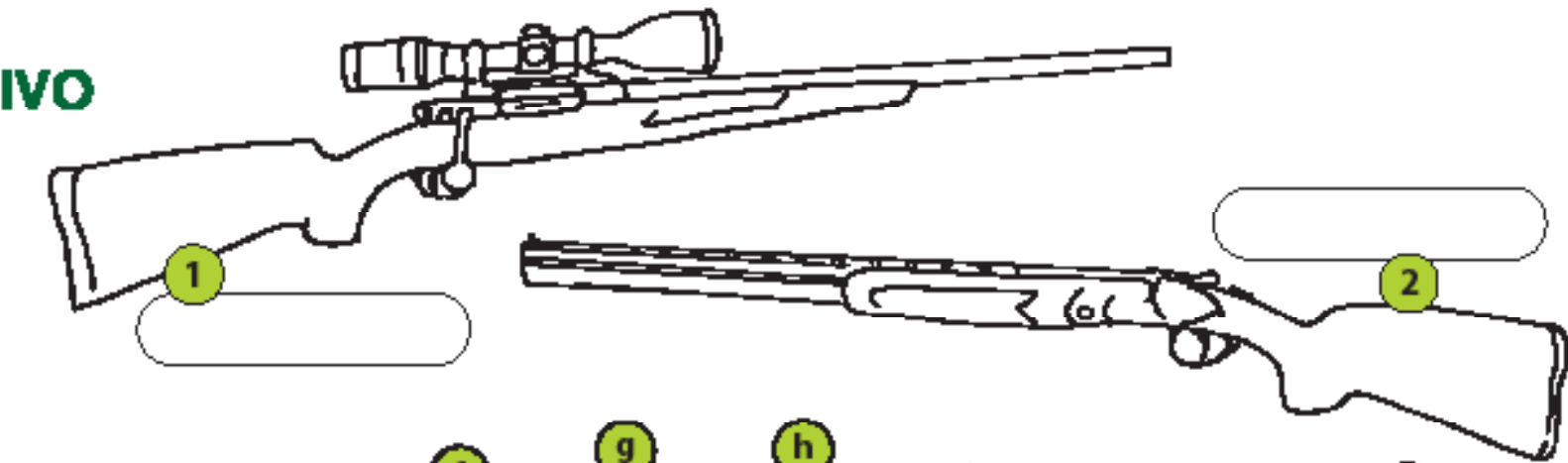
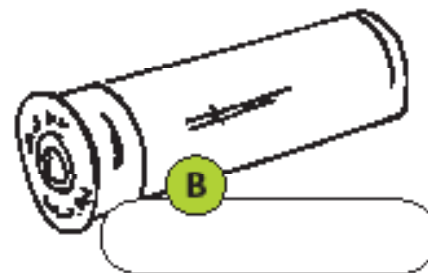
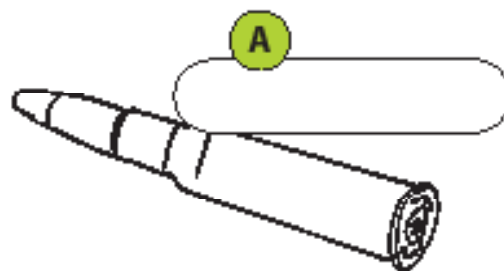
2 Pojmenuj náboje na obrázcích A a B a přiřaď je k odpovídající zbraně.

3 Z každé zbraně bylo jednou vystřeleno na terč. Poznáš, který terč patří které zbraně? Vysvětli proč.

4 Popiš části lovecké zbraně. Přiřaď písmenka z obrázku k odpovídajícímu názvu:

- | | |
|--|--|
| <input type="checkbox"/> muška | <input type="checkbox"/> nos |
| <input type="checkbox"/> lučik | <input type="checkbox"/> hřbet |
| <input type="checkbox"/> pouzdro závěru | <input type="checkbox"/> spoušť |
| <input type="checkbox"/> hlaveň | <input type="checkbox"/> předpažbí |
| <input type="checkbox"/> pojistka | <input type="checkbox"/> klika závěru |
| <input type="checkbox"/> hledí | <input type="checkbox"/> zásobník |
| <input type="checkbox"/> lícnice | <input type="checkbox"/> pata |
| <input type="checkbox"/> pistolová rukojeť | <input type="checkbox"/> krk |
| <input type="checkbox"/> montáž | <input type="checkbox"/> závěr |
| <input type="checkbox"/> hlaviště pažby | <input type="checkbox"/> botka |
| <input type="checkbox"/> ústí hlavně | <input type="checkbox"/> optický zaměřovač |

5 Na závěr si můžeš obrázek vybarvit.



ZBRANĚ A STŘELIVO

Jedním z hlavních úkolů myslivce je hospodaření se zvěří. Myslivci musí lovem udržovat stavy zvěře v takových počtech, aby nebyla přemnožená a nepřekračovala úživnost svého životního prostředí. V opačném případě, když zvěř tuto hranici převýší, její přirozené potravní zdroje začnou být nedostatečné, stejně tak jako prostor, ve kterém se zvěř nachází a proto je více stresována, je nucena hledat si nová stávaníště a nové zdroje potravy, což vede ke škodám na lesních i polních kulturách. Nedílnou součástí myslivosti je tedy i lov zvěře a s tím související obor loveckého střelectví.

Každý myslivec musí umět se zbraní správně a hlavně bezpečně zacházet a musí dobře znát všechny její součásti. Musí se orientovat v oblasti balistiky a také mít přehled o používaném loveckém střelivu.

Pracovní list ZBRANĚ A STŘELIVO - správné odpovědi

- 1) obr. 1 – lovecká kulovnice - opakovací /
obr. 2 – lovecká brokovnice - kozlice
- 2) obr. A – kulový náboj do kulovnice / obr. B – brokový náboj do brokovnice
- 3) terč T1 – brokovnice, zásah shlukem broků / terč T2 – kulovnice, zásah kulovou střelou
- 4) a - hlaviště pažby, b - hřbet, c - nos, d - krk, e - pojistka, f - pouzdro závěru, g - montáž, h - optický zaměřovač, i - hledí, j - muška, k - ústí hlavně, l - hlaveň, m - předpažbí, n - závěr, o - zásobník, p - lučík, q - spoušť, r - klika závěru, s - pistolová rukojeť, t - lícnice, u - botka, v - pata