

KACHNA DIVOKÁ

1 K obrázkům 1-3 doplň označení pro samce, samici a jejich mláďata.






2 Popiš kachnu mysliveckou mluvou. Přiřaď malá písmenka z obrázku k odpovídajícímu názvu:

- | | |
|----------------------------------|----------------------------------|
| <input type="checkbox"/> hřbet | <input type="checkbox"/> zobák |
| <input type="checkbox"/> ocas | <input type="checkbox"/> hrud' |
| <input type="checkbox"/> límec | <input type="checkbox"/> zrcátko |
| <input type="checkbox"/> plováky | <input type="checkbox"/> světlo |
| <input type="checkbox"/> nehet | <input type="checkbox"/> kačírky |

3 Z obrázků A, B, C, D, E a F vyber ty, na kterých je kachna divoká. Dokážeš svůj výběr zdůvodnit?

4 Do mřížky překresli stopu kachny divoké ve skutečné velikosti.

5 Na závěr si obrázek hezky vybarvi.



KACHNA DIVOKÁ

Kachna divoká, březňačka, patří mezi kachny plovavé a je nejrozšířenějším druhem kachny na našem území. Vyhledává stojaté i tekoucí vodní plochy s dostatkem potravy a krytých míst pro hnízdění.

Potrava kachny divoké je převážně rostlinná, ale částečně i živočišná. Živí se zemními i vodními rostlinami, semeny, hmyzem, plži a také pulci a rybím potěrem.

Tok u kachny začíná již v březnu, odtud pojmenování březňačka, a následně samice snáší do hnízda na zemi poblíž vody 8-15 vajec, na kterých sedí 22-28 dní.

Pracovní list KACHNA DIVOKÁ - správné odpovědi

1) obr. 1 samice - kachna / obr. 2 mládě - kachně / obr. 3 samec - kačer
2) a - světlo, b - zobák, c - nehet, d - límec, e - hrud', f - plováky, g - zrcátko, h - ocas, i - kačírky, j - hřbet

3) obr. A, D, E

Obrázky zachycují poznávací znaky mezi kachnami plovavými a potápivými. Kachna divoká patří mezi kachny plovavé.

Obr. A - kachny plovavé dokáží z hladiny vzlétnout z místa, bez rozběhu.

Obr. B - kachny potápivé se při vzletu musí krátce rozběhnout po hladině.

Obr. C - kachny potápivé mají trup ponořený asi do poloviny, ocas se dotýká hladiny.

Obr. D - kachny plovavé mají ponořený trup asi jen do jedné třetiny, ocas je vždy nesen nad hladinou.

Obr. E - kachny plovavé mají nohy (plováky) posazené skoro uprostřed těla, trup je nesen téměř vodorovně.

Obr. F - kachny potápivé mají nohy (plováky) posunuté k zadní části těla, trup je nesen více vzpřímeně.

4) Stopa kachny divoké je asi 7,5 - 8 cm dlouhá a 6,5 - 7 cm široká.