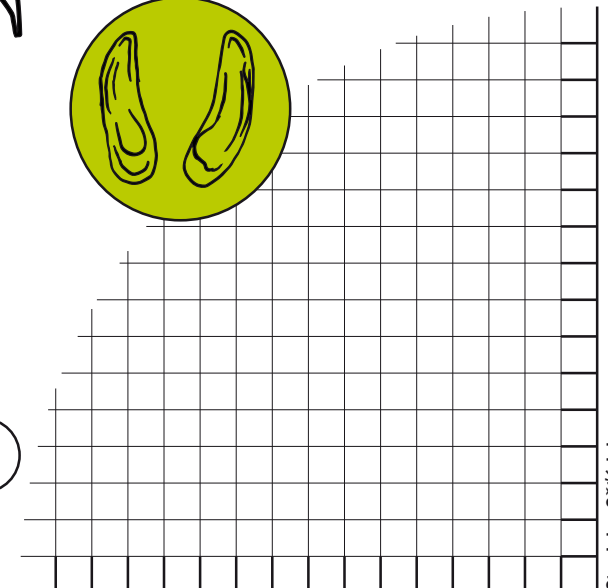
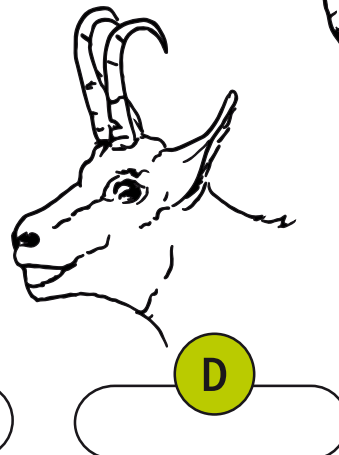
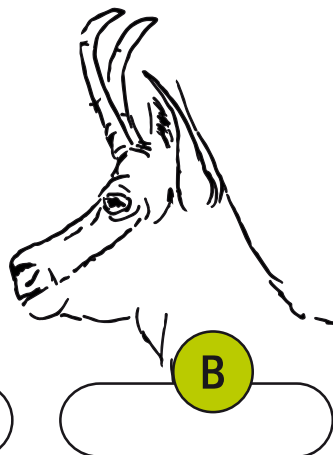
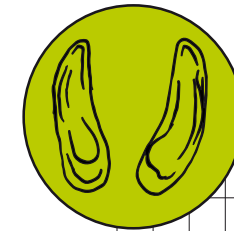
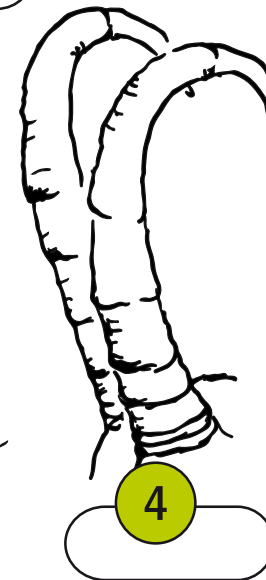
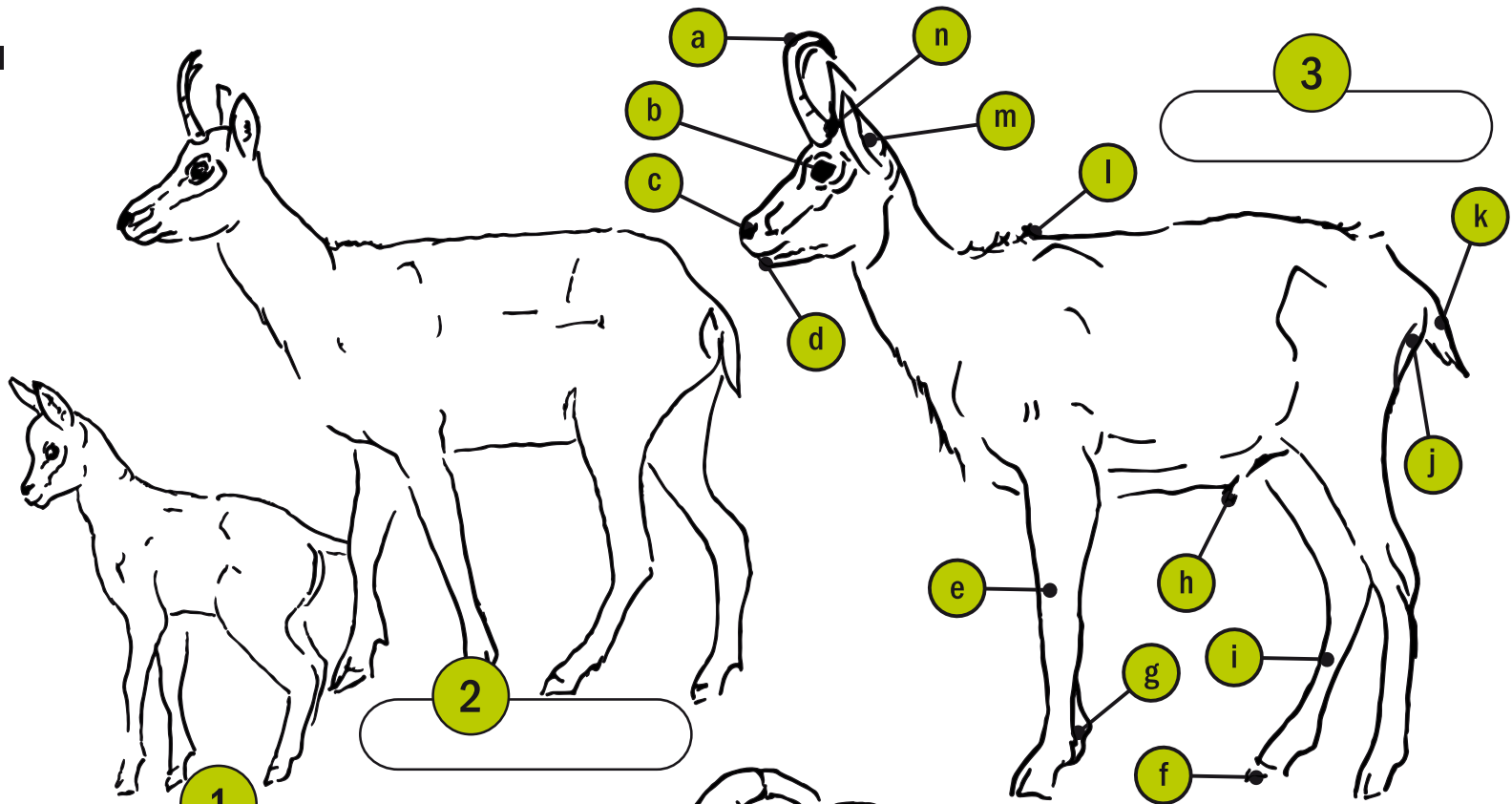


PRACOVNÍ LIST MALÉ MYSLIVOSTI

KAMZÍK HORSKÝ

- Pojmenuj samce, samici a jejich mládě.
- Popiš kamzíka mysliveckou mluvou. Přičiř písmenka z obrázku k odpovídajícímu názvu:

<input type="radio"/> zadní běh	<input type="radio"/> světlo
<input type="radio"/> kamzičí vous	<input type="radio"/> fíky
<input type="radio"/> slecho	<input type="radio"/> větrník
<input type="radio"/> přední běh	<input type="radio"/> svírák
<input type="radio"/> spárek	<input type="radio"/> stříapec
<input type="radio"/> paspárek	<input type="radio"/> kelka
<input type="radio"/> rúžek	<input type="radio"/> obríteek
- Na obrázcích A až D jsou dva kamzíci a dvě kamzice. Podle typických znaků (tvar a postavení rúžků) označ samce a samice.
- Z obrázku č.4 odhadni věk kamzíka.
- Do mřížky překresli kamzičí stopu ve skutečné velikosti.
- Posledním úkolem je obrázek vybarvit.



Stanislav Ošťádal

1) obr. 1 – mládě – kamziče, obr. 2 – samice – kamzice, obr. 3 – samec – kamzík, 2) a – rúžek, b – světlo, c – větrník, d – svírák, e – přední běh, f – spárek, g – paspárek, h – stříapec, i – zadní běh, j – obríteek, k – kelka, l – kamzičí vous, m – slecho, n – fíky, 3) obr. A – kamzík, obr. B – kamzice, obr. C – kamzice, obr. D – kamzík, 4) 8 roků (8 vrubů na rúžku), 5) stopa kamzíka je asi 5 – 6 cm dlouhá a asi 3,5 cm široká