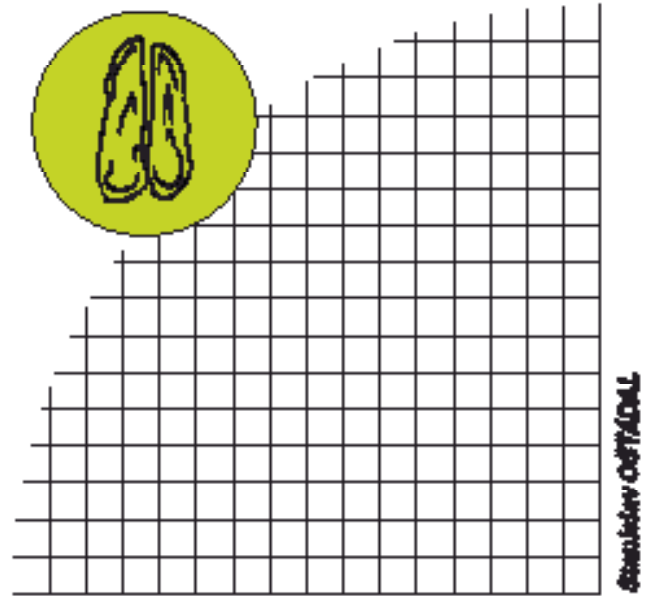

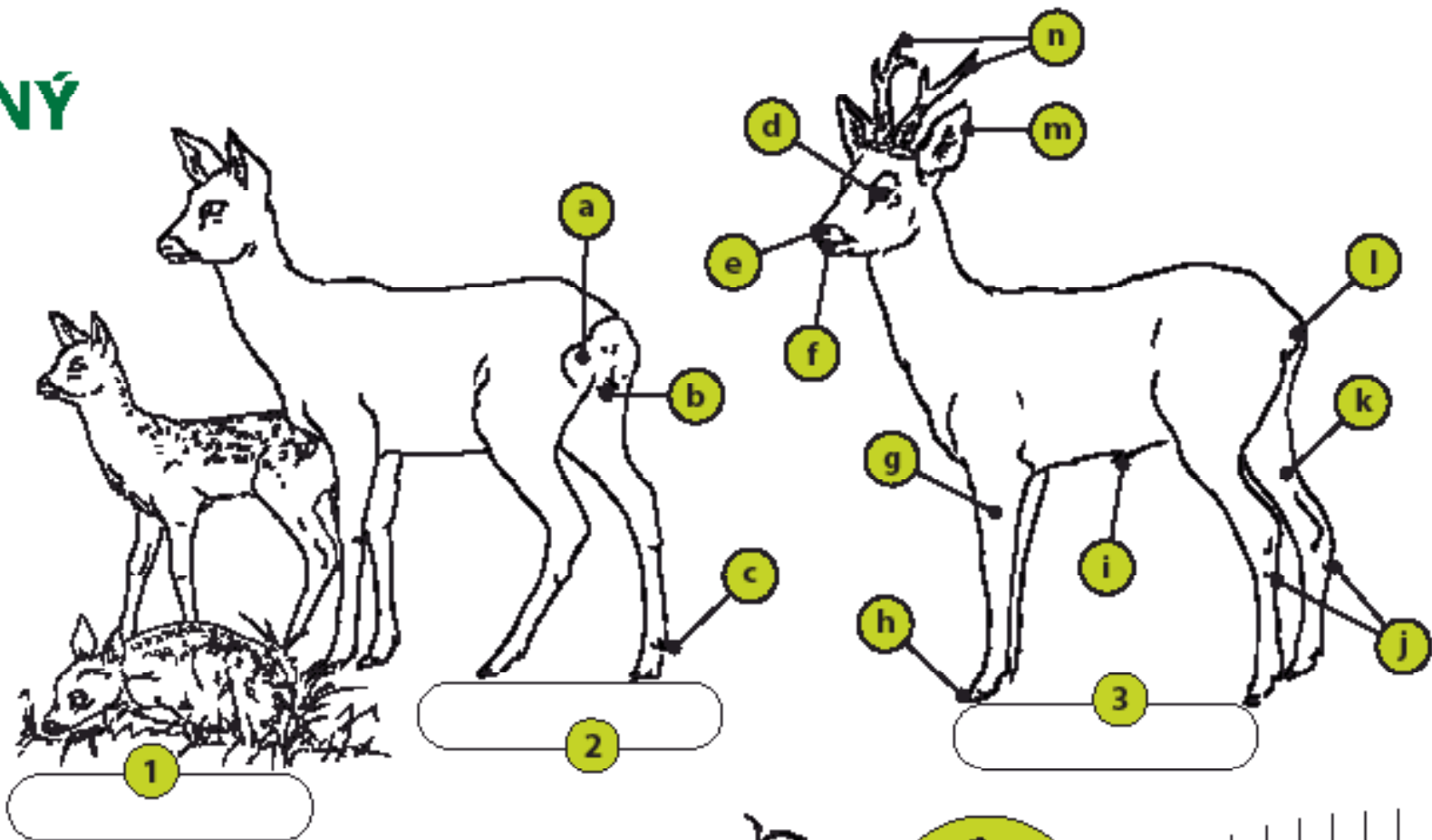


SRNEC OBECNÝ

- Pojmenuj samce, samici a jejich mládě.
- Popiš samčí zvěř mysliveckou mluvou. Přifaď písmenka z obrázku k odpovídajícímu názvu:

<input type="checkbox"/> parůžky	<input type="checkbox"/> paspárky
<input type="checkbox"/> zadní běh	<input type="checkbox"/> slechy
<input type="checkbox"/> přední běh	<input type="checkbox"/> větník
<input type="checkbox"/> stěpavec	<input type="checkbox"/> zrcátko
<input type="checkbox"/> zástěrka	<input type="checkbox"/> kelka
<input type="checkbox"/> světló	<input type="checkbox"/> pucky
<input type="checkbox"/> spárky	<input type="checkbox"/> svírák
- Zkus stručně popsat, co se odehrává na obrázcích A a B.
- Do mřížky překresli stopu srnce ve skutečné velikosti.
- Tvým posledním úkolem je obrázek hezky vybarvit.



SRNEC OBECNÝ

Srnčí zvěř je našim původním a hojně se vyskytujícím druhem spárkaté zvěře, který obývá lesní i polní honitby. Je to býložravec spásající volně rostoucí i kulturní rostliny. Srnčí zvěř také sbírá plody a semena rostlin, ráda okusuje pupeny a zelenou kůru dřevin.

Srnčí zvěř je teritoriální, což znamená, že po většinu roku žije samotářsky. Srnci si označují svá území otíráním pachových žláz na běžích, na čele a mezi pučnicemi. Při tom vznikají zřetelná pobytová znamení. Spárky rozhrabané půdě říkáme hrabánky a místa s odřenou kůrou na slabších dřevinách nazýváme strouhánky.

Při srnčí říji, která probíhá na přelomu července a srpna, srnec honí srnu v kruzích, v rejdišti. Srna po 42 týdnech březosti klade jedno nebo dvě, velmi vzácně tři mláďata.

Pracovní list SRNEC OBECNÝ - správné odpovědi

- 1) obr. 1 – mládě - srnče / obr. 2 – samice - srna / obr. 3 – samec - srnec
- 2) a - zrcátko, b - zástěrka, c - paspárky, d - světlo, e - větrník, f - svírák, g - přední běh, h - spárky, i - střepec, j - pucky, k - zadní běh, l - kelka, m - slechy, n - parůžky
- 3) obr. A – srnčí říje, srnec honí srnu / obr. B – srnec vytlouká, hrabánkuje, anebo si značí teritorium
- 4) stopa srnce je asi 3,5 - 4,5 cm dlouhá a 3 cm široká