

VEVERKOVITÍ

1 Na obrázcích č. 1 a č. 2 pojmenuj druhy patřící do čeledi veverkovitých.

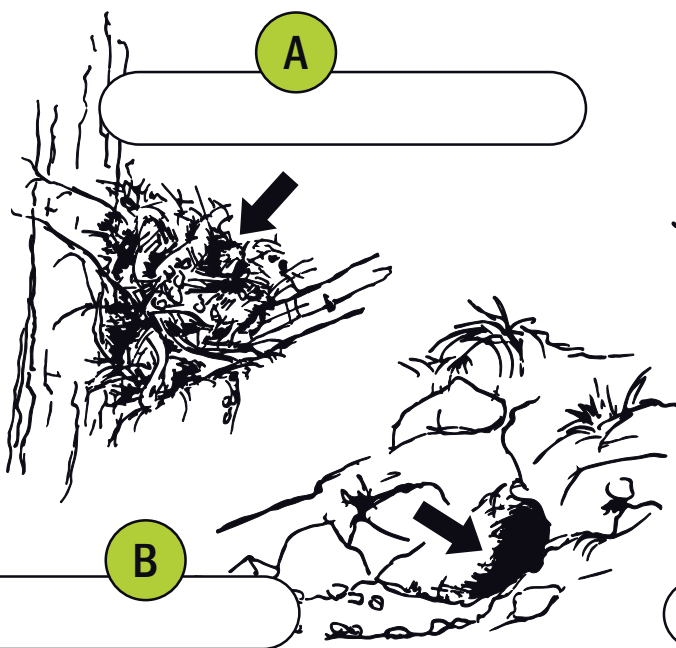
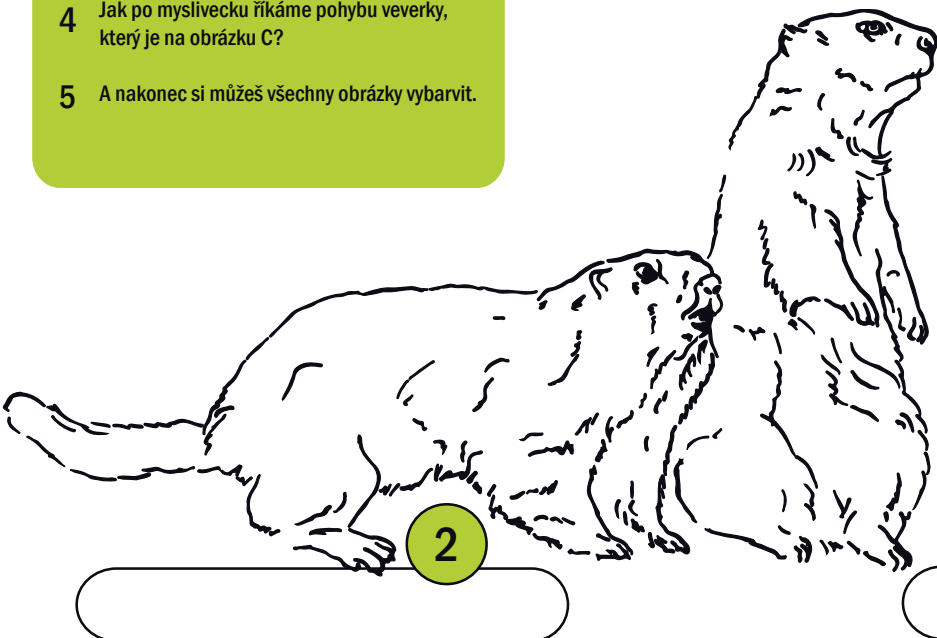

2 Na obrázku č. 1 popiš mysliveckou mluvou veverku a její mládě. Přiřaď písmenka z obrázku k odpovídajícímu názvu.

- | | |
|--------------------------------|------------------------------|
| <input type="radio"/> slecho | <input type="radio"/> světlo |
| <input type="radio"/> běhy | <input type="radio"/> vousy |
| <input type="radio"/> chvostky | <input type="radio"/> nos |
| <input type="radio"/> huba | <input type="radio"/> chvost |
| <input type="radio"/> hřbet | <input type="radio"/> břicho |

3 Přiřaď a pojmenuj mysliveckou mluvou příbytky na obrázcích A a B.

4 Jak po myslivecku říkáme pohybu veverky, který je na obrázku C?

5 A nakonec si můžeš všechny obrázky vybarvit.



1) 1 – veverka obecná, 2 – svišť horský, 2) a – hřbet, b – slecho, c – chvostky, d – světlo, e – vousy, f – nos, g – huba, h – běhy, i – břicho, j – chvost, mládě – veverče, 3) A – veverčí línzko s pelikem, B – nora sviště, 4) C – veverka se stromu „sřízí“