


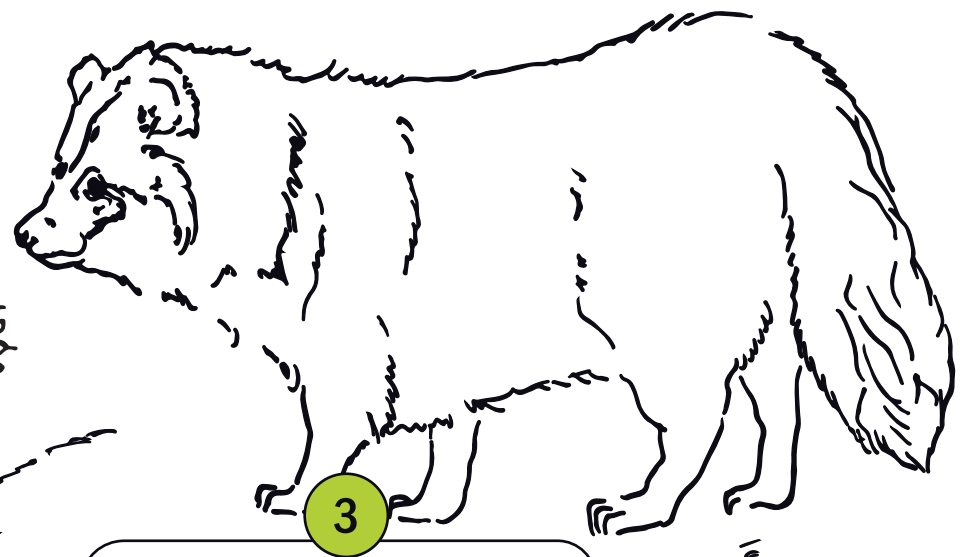
ZAVLEČENÉ ŠELMY

- 1 Na obrázcích č. 1 - 3 pojmenuj šelmy patřící mezi zavlečené druhy na naše území.
- 2 Psík mývalovitý a mýval severní se někdy mohou plést. Mají však několik rozlišovacích znaků. Jedním z nich je obličejová maska. Poznáš podle obličejů na obrázcích A a B kdo je kdo?
- 3 Psíka a mývala můžeme od sebe poznat také podle rozdílných ocasů. Komu který patří z obrázků C a D?
- 4 Také otisky tlapek má každý úplně jiné. Která stopa je psíka a která mývala? Přičiř jim obrázky E a F.
- 5 Pokud máš úkoly hotové, můžeš si obrázky na závěr vybarvit.



1


2



3



A



B



C



D